





מה השעה?


הסתכל בשעונים הבאים וכתוב את השעה הנכונה מתחת כל שעון.





























מה השעה?


הסתכל בשעונים הבאים וכתוב את השעה הנכונה מתחת כל שעון.























מה השעה?

הסתכל בשעונים הבאים וכתוב את השעה הנכונה מתחת כל שעון.






















מה השעה?

הסתכל בשעונים הבאים וכתוב את השעה הנכונה מתחת כל שעון.






















מה השעה?

הסתכל בשעונים הבאים וכתוב את השעה הנכונה מתחת כל שעון.






















מה השעה?

הסתכל בשעונים הבאים וכתוב את השעה הנכונה מתחת כל שעון.






















מה השעה?

הסתכל בשעונים הבאים וכתוב את השעה הנכונה מתחת כל שעון.






















מה השעה?

הסתכל בשעונים הבאים וכתוב את השעה הנכונה מתחת כל שעון.






















מה השעה?

הסתכל בשעונים הבאים וכתוב את השעה הנכונה מתחת כל שעון.






















מה השעה?

הסתכל בשעונים הבאים וכתוב את השעה הנכונה מתחת כל שעון.















